

Opgave 6 – Zuid-Oost-Azië: Klimaten in Zuid-Oost-Azië

Bestudeer bron 1 uit het bronnenboekje die bij deze opgave hoort.

Gebruik bron 1.

De klimaatdiagrammen van de bron behoren, in alfabetische volgorde, bij de steden Hanoi, Ho Chi Minhstad, Kota Bharu en Kuala Lumpur.

- 3p **18** Schrijf de cijfers 1 tot en met 4 op je antwoordblad.
Noteer achter elk cijfer de naam van de bijbehorende stad.

Gebruik kaart 196 (52e druk: 182).

Zuid-Oost-Azië kent twee soorten tropisch regenklimaat, net zoals Afrika en Zuid-Amerika.

- 2p **19** Beschrijf het spreidingspatroon van beide klimaatsoorten in Zuid-Oost-Azië.
Geef een oorzaak voor het verschil in neerslag tussen beide klimaatsoorten.

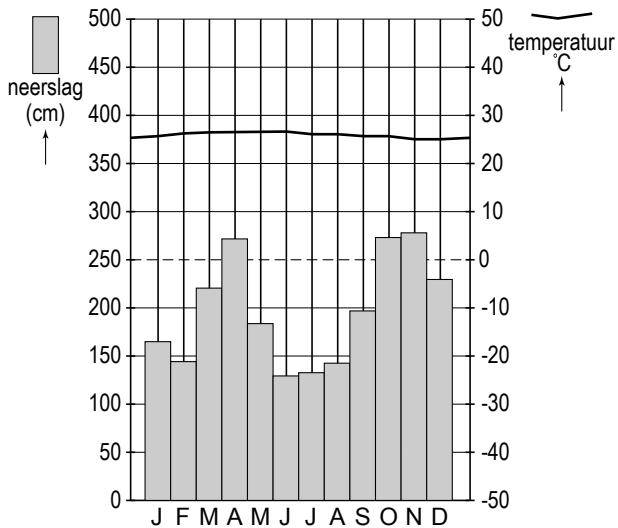
Mede dankzij de grote hoeveelheden neerslag is het in grote delen van Zuid-Oost-Azië mogelijk twee en soms zelfs drie keer per jaar te oogsten. Die overvloedige neerslag heeft echter ook nadelen.

- 2p **20** Geef, afgezien van de kans op overstromingen, nog twee nadelen van deze overvloedige neerslag voor de landbouw in Zuid-Oost-Azië.

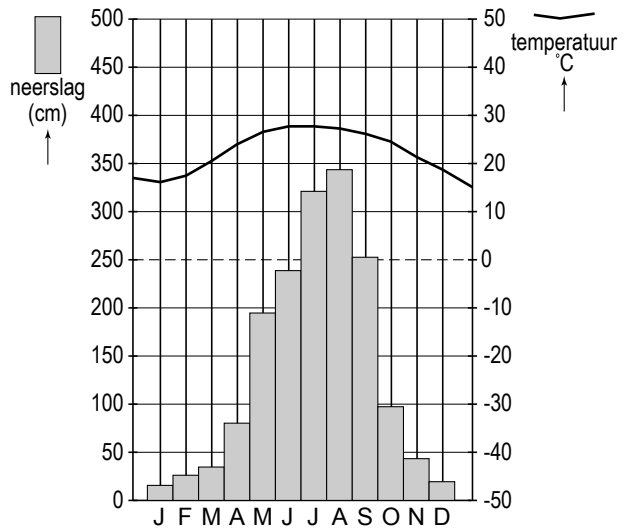
Opgave 6 – Zuid-Oost-Azië: Klimaten in Zuid-Oost-Azië

bron 1: Klimaatdiagrammen van vier steden in Zuid-Oost-Azië

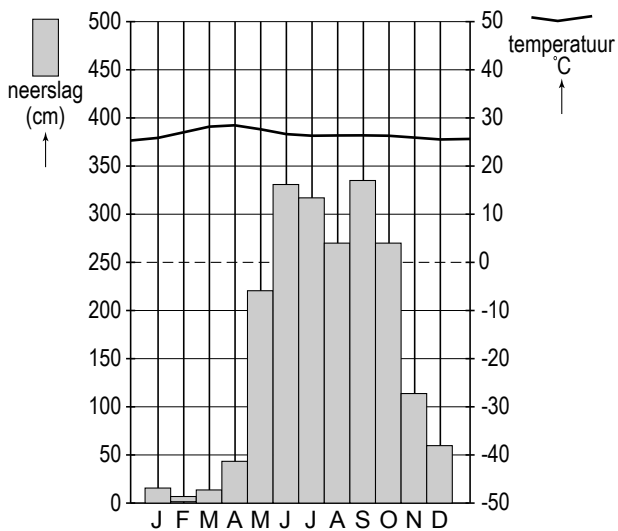
1



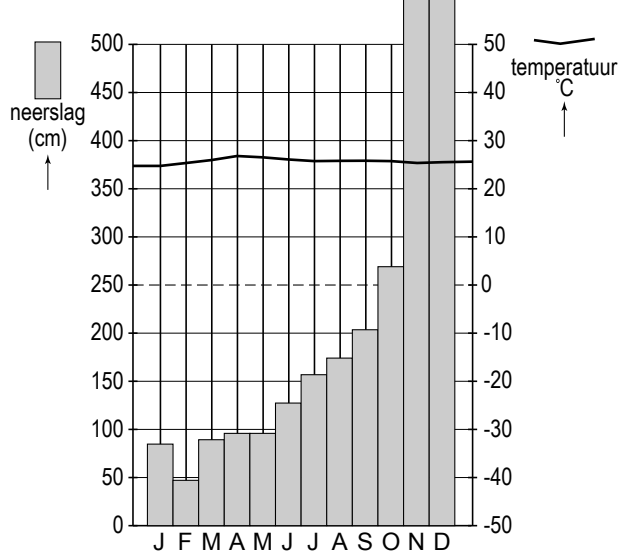
2



3



4



vrij naar: <http://climatediagrams.com/climate.php>

Bronvermelding

Een opsomming van de in dit examen gebruikte bronnen, zoals teksten en afbeeldingen, is te vinden in het bij dit examen behorende correctievoorschrift, dat na afloop van het examen wordt gepubliceerd.